


365

de ACTIVITĂȚI de ȘTIINȚELE ale NATURII



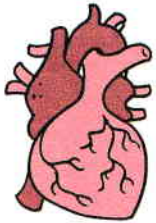
Realizată de:
Lata Seth
Anuj Chawla



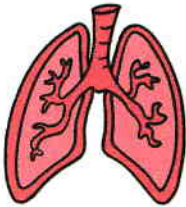
+6 ANI

Parti ale corpului

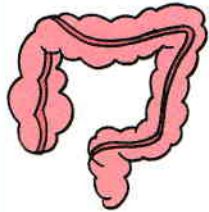
Trasează o linie de la fiecare organ la poziția lui corectă în corp.




Inimă



Plămâni




Intestin



Rinichi



Creier



Membre

Cap

Trunchi

Potrivești și te distrezi

Unește cu o linie elementele din prima coloană cu organele de simț corespunzătoare.




Corpul nostru

Corpul nostru este alcătuit din trei părți principale. Arată care sunt acestea și colorează imaginea.

Ochii noștri

Indică pe desen părțile ochiului folosind cuvintele din lista de mai jos.



Listă de cuvinte

Gene Pleoapă Iris Pupilă

Descifrează codul

Fiecare literă este egală cu cea care îi urmează în alfabet.

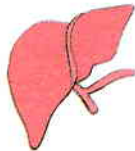
A=B, B=C, C=D, D=E...

Descoperă codul, denumește organele ilustrate mai jos și realizează corespondențele.

NZRD O

EHBZȘ F

OKALĂM



Părți ale capului

Indică pe desen părțile capului folosind cuvintele din lista de mai jos.

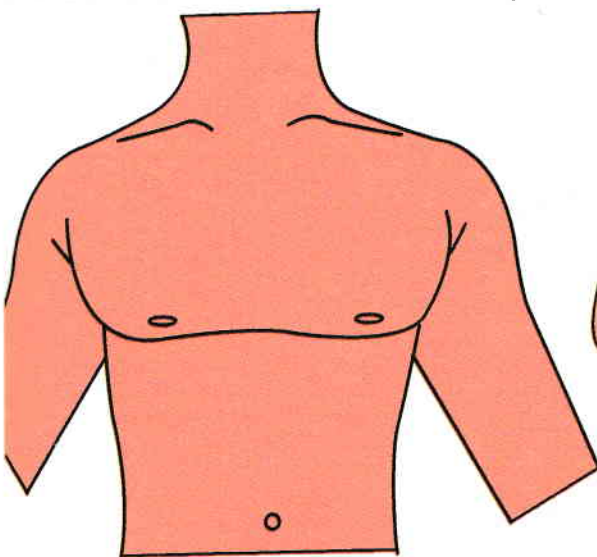


Listă de cuvinte

Sprânceană	Nas	Ochi
Ureche	Gură	Limbă
Păr	Obraz	Bărbie

Trunchiul

Indică pe desen părți ale trunchiului folosind cuvintele din lista de mai jos.

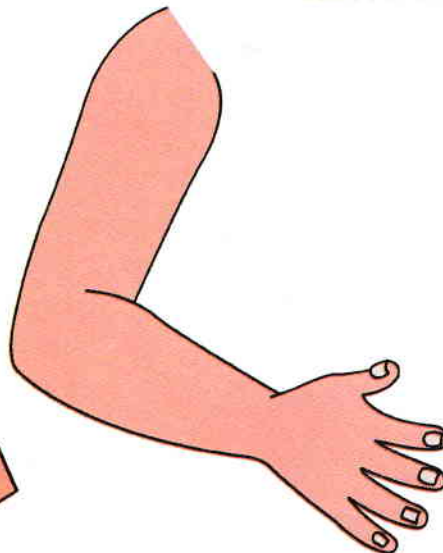


Listă de cuvinte

Abdomen Gât Piept Umăr

Brațul

Acesta este un braț. Poți numi câteva dintre părțile lui?



<input type="text"/>
<input type="text"/>
<input type="text"/>
<input type="text"/>
<input type="text"/>
<input type="text"/>
<input type="text"/>

Palmă

Deget

Încheietură

Unghie

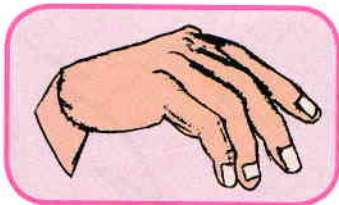
Cot

Deget mare

Organe de simț

Unește cuvintele cu imaginile potrivite.



VĂZ



GUST




PIPĂIT



Sus pe cer


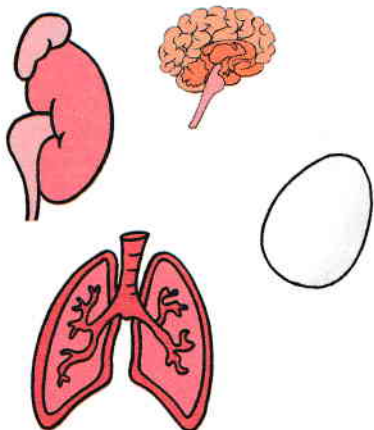
Ajută-l pe băiat să descopere steluța unind punctele în ordine crescătoare.



Privire magică

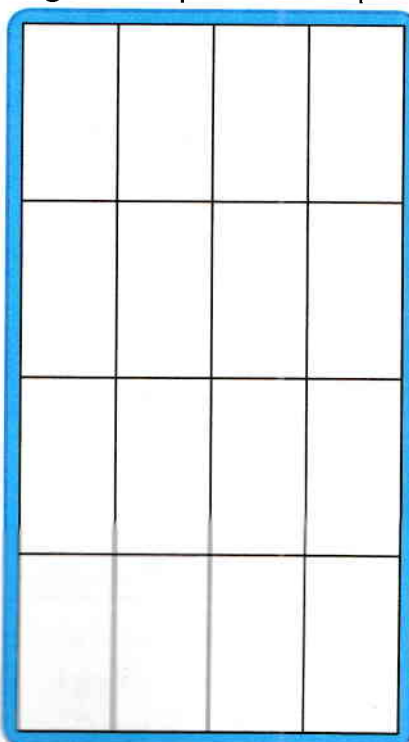
Privește cu atenție elementele de mai jos, scrie litera cu care începe denumirea fiecăruia și formează apoi cu literele descoperite un cuvânt nou.

Răspuns: _____




Să desenăm!

Desenează imaginea din grila din stânga în grila din partea dreaptă.



Privește!

Găsește perechea fiecărui ochi.

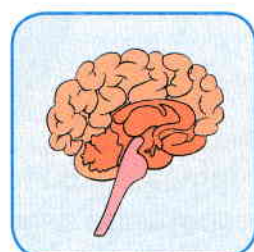
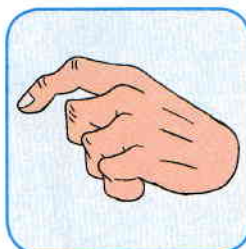


Ghicește-mă!

Lungi sau scurte, dar foarte puternice, pe noi se sprijină întregul corp.

Ce suntem?

Bifează imaginea corectă.



Harababură

Rearanjează literele pentru a descoperi numele unuia dintre sistemele din corpul uman.



G S I V A N N



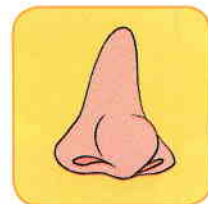
Ghicitoare

Legume, fructe și lactate eu gust.

Cine sunt eu?



Bifează imaginea corectă.



Aceasta este o amprentă. Știi că amprentele tale sunt unice? Nimeni nu mai are amprente ca ale tale.



Înmoaie-ți buricul degetului în cerneală, apoi așază degetul în chenar pentru a-ți imprima amprenta.

Activități făcute cu mâinile

Mai jos sunt reprezentate câteva dintre activitățile pe care le facem cu mâinile. Unește imaginile cu numele activităților.




Scris

Gătit

Duș

Cuvinte încrucișate

Rezolvă rebusul cu ajutorul imaginilor.



Harababură

Rearanjează literele pentru a descoperi acțiunea, apoi colorează imaginea.

ăcoaj _____



Potrivește organele de simț

Realizează corespondența între organele de simț și imaginile potrivite.



Piele

Limbă

Ochi

Urechi

Nas

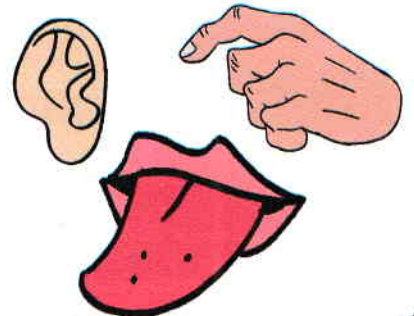
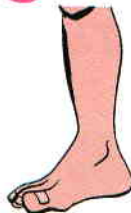


Identifică părțile corpului

Unește articolele de îmbrăcăminte și încălțăminte cu părțile corpului cărora le aparțin.

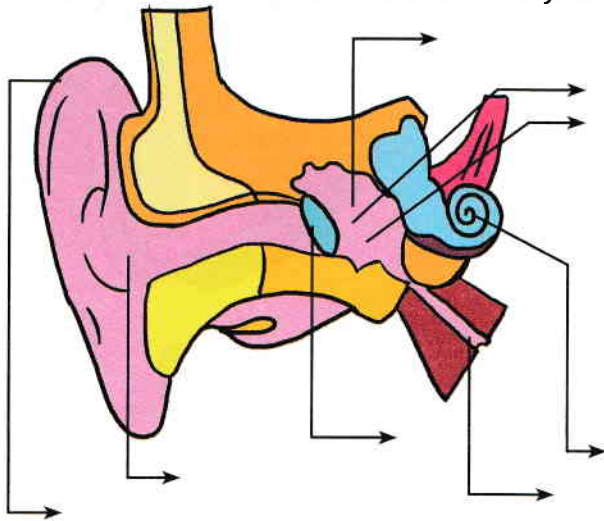


1. _____ ne ajută să vedem.
2. _____ ne ajută să auzim.
3. _____ ne ajută să pipăim.
4. _____ ne ajută să mirosim.
5. _____ ne ajută să gustăm.



Urechea

Scrive părțile componente ale urechii folosind cuvintele din lista de mai jos.




Listă de cuvinte

Timpan	Trompa lui Eustachio	Ciocan
Nicovală	Canal auditiv extern	Scăriță
Ureche externă	Cohlee sau melc	

Picioarul


Un picior este format din mai multe părți. Hai să le descoperim împreună!



Genunchi **Laba piciorului**
Gambă **Călcâi** **Degete** **Coapsă**
Gleznă **Tibie**

Elimină sau adaugă

Elimină sau adaugă litere pentru a obține numele organului de mai jos.



CREMĂ - MĂ + IED - D + RAȚĂ - AȚĂ

= _____



Ai grijă de ochii tăi!

Încercuiește imaginile în care personajul își folosește intens ochii.




Numere distractive

Câte elemente din fiecare categorie sunt?
Numără-le.




Spirit de observație



Încercuiește steaua cea mai mare.






Încercuiește acadeaua cea mai mică.



Încercuiește creionul cel mai mare.

Urechea potrivită

Găsește urechea potrivită
fiecărui animal.



Verificarea sunetelor

Privește cu atenție imaginile
și bifează răspunsurile corecte.



Muzică Zgomot



Tare Încet



Sunete înalte
Sunete joase